

VISITE  
LE JARDIN DES VESTIGES

CARNET DE

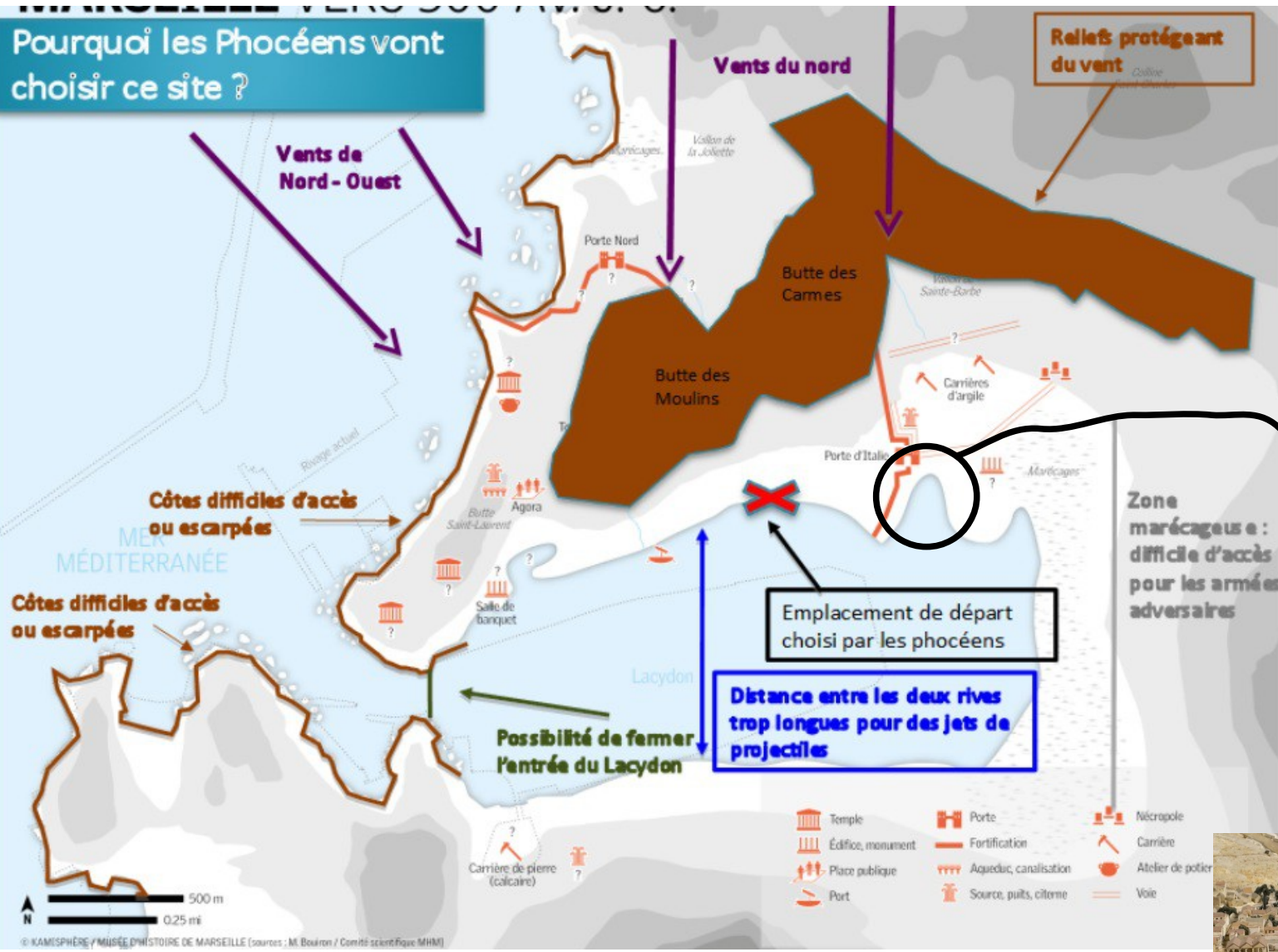
.....

accompagnée de

.....

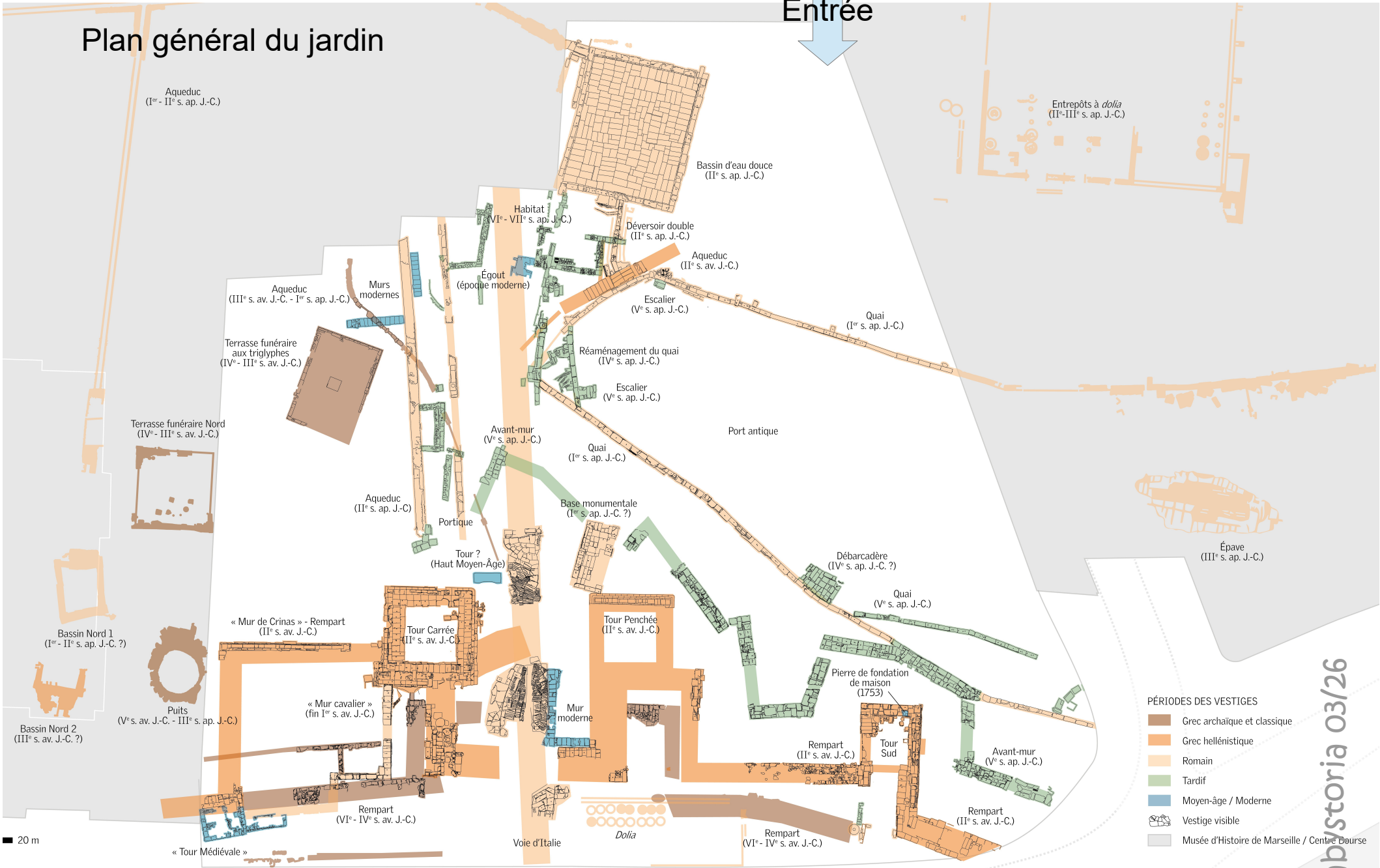
date .... / .... / .....

# Pourquoi les Phocéens vont choisir ce site ?



# Plan général du jardin

Entrée




- PÉRIODES DES VESTIGES
- Grec archaïque et classique
  - Grec hellénistique
  - Romain
  - Tardif
  - Moyen-âge / Moderne
  - Vestige visible
  - Musée d'Histoire de Marseille / Centre Bourse

20 m

LLE (source : Centre Camille Jullian)

Rue Henri Barbusse



Relie les numéros reportés sur la reconstitution ci-dessus aux noms des vestiges que tu as pu observer aujourd'hui.



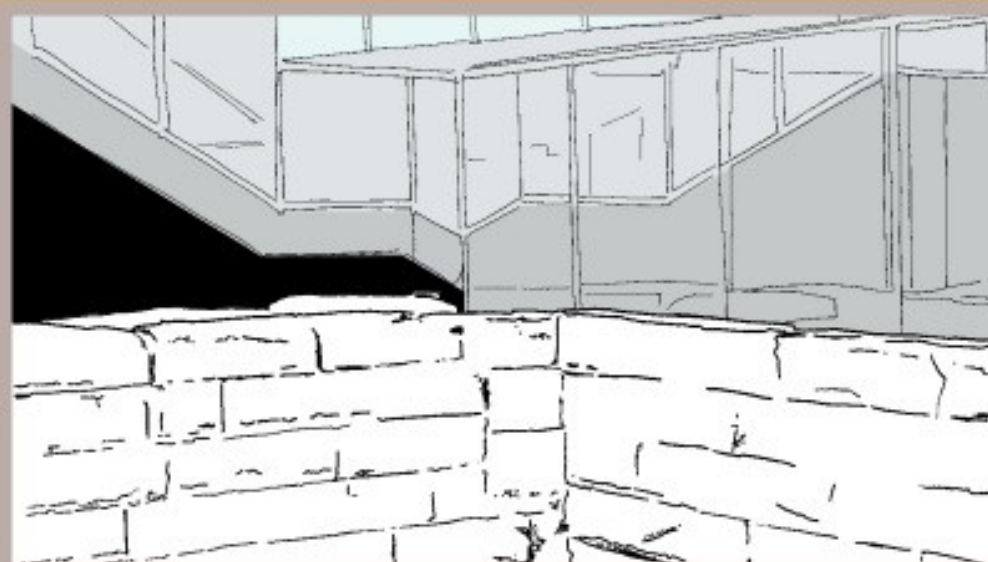
- |   |                    |   |                  |
|---|--------------------|---|------------------|
| ● | Corne du port      | ● | Enclos funéraire |
| ● | Tour sud           | ● | Tour carrée      |
| ● | Bassin d'eau douce | ● | Mur de Crinas    |
| ● | Voie dallée        |   |                  |



Ce réservoir a été construit à l'époque romaine mais était-il :

- une piscine
- des thermes
- un bac à sable
- un étang
- un abreuvoir
- une baignoire
- un bassin d'eau douce
- une bassine

Retrouve ci-dessous le « déversoir »  
(le trou par lequel l'eau se jette dans le bassin) et représente-le sur le dessin.



Tu peux remarquer derrière ce « déversoir » de grosses dalles en pierre. Elles recouvraient la canalisation qui conduisait l'eau de la source au bassin.

Ce conduit se situe-t-il à l'angle...

- Nord-Est
- Nord-Ouest
- Sud-Est
- Sud-Ouest



\* Pour répondre à cette question, aide-toi de la boussole représentée sur le dessin du site archéologique, au tout début du livret.

Si tu pouvais continuer à suivre cette canalisation, irais-tu vers :

- La colline Saint-Charles
- Le Vieux-Port




Ce bassin recevait l'eau d'une source qui jaillissait un peu plus haut. Une roue


permettait de puiser l'eau pour les besoins des marins et des habitants.

Trouve la corne du port

Complète la zone blanche  
au premier plan du dessin  
en y rajoutant les bateaux  
du port, des poissons, de  
l'eau....



Le mur de .....



Allez devant ce vestige : c'est une terrasse  
f.....

Le bord de la terrasse est constitué d'une alternance entre trois bandes que l'on nomme triglyphe et des espaces vides qui sont normalement décorés : les métopes.

Dessine des personnages pour compléter le dessin.

# TROUVE LA VOIE DALLÉE

Retrouve l'endroit exact où cette photo a été prise. Si tu regardes bien, il manque un monument de la ville sur le dessin à côté.

Peux-tu corriger cet oubli et le dessiner ?

Il se situe plutôt à l'arrière plan (au fond) et tu peux l'entendre toutes les heures.



Vois-tu ces rainures gravées sur les dalles ?

À ton avis, de quoi s'agit-il ?



de décorations



d'un passage piéton pour fourmis



de flèches pour indiquer le nord



d'antidérapant



## RENDS-TOI À LA TOUR SUD







Retrouve l'emplacement du photographe et du dessinateur de ces deux vues identiques et complète le dessin.











Quelle est cette ouverture dans le mur ?

- une fenêtre
- un guichet
- un œil de bœuf
- un vitrail
- une meurtrière
- un Mac d'rive
- un soupirail
- un pare-brise

À quoi servait-elle ?

					
= R	= O	= I	= N	= S	= E

							
_____							

Jeu 1 – ce que l'on trouve sur la voie dallée



Trouve ce détail puis remplace les lettres ci-dessous par les suivantes dans l'alphabet. Tu auras ainsi le nom de ces décorations à 3 barres et 2 rainures :

**S Q H F K X O G D R**

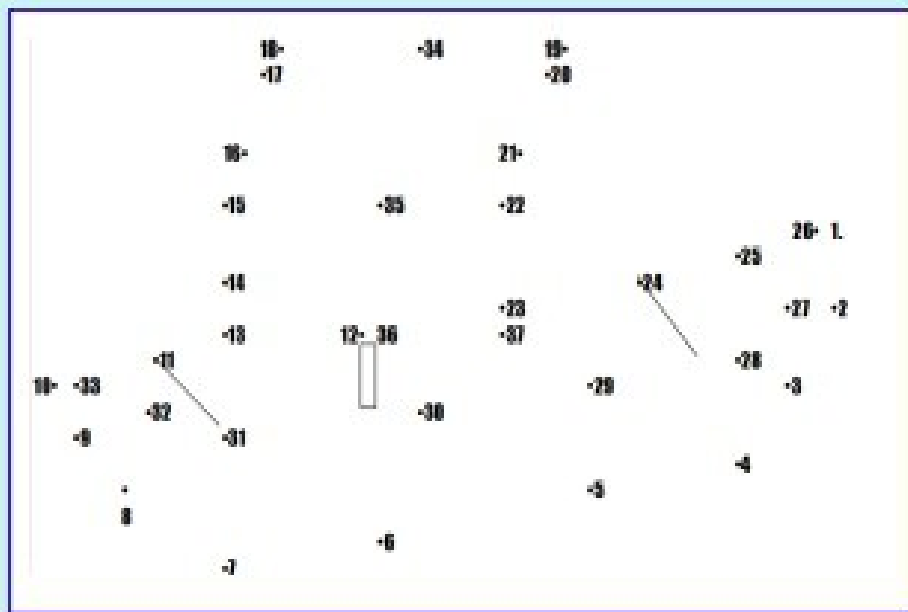
\_\_\_\_\_

\_\_\_\_\_

Jeu 2 – devant la terrasse...

A toi de dessiner :

Relie les chiffres dans l'ordre croissant et tu découvriras un élément important du musée.



C'est un :

Jeu 3 – dessin au numéro....



# Chronologie

Relie les images aux époques correspondantes




1 2019  
Réaménagement du site du Port antique

2 1<sup>er</sup> siècle après J.-C.  
Port de Massilia

3 1975  
Fouilles archéologiques du site de la Bourse

4 1913  
Découverte du « mur de Crinas »



Jeu 4 – la  
Chronologie du  
Vieux Port...



## Légende

Période des constructions : A Antiquité / X XIXe siècle / C Contemporain

Matériaux :  orange Pierre  jaune Béton  violet Verre  vert Végétal

Fonctions :

	Commerce		Bureau		Militaire
	Logement		Hôtel		Musée
					Portuaire

